

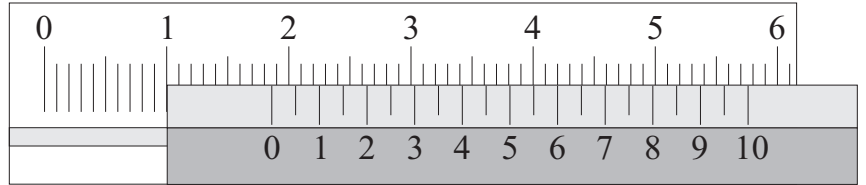
Voornaam: _____

Achternaam: _____

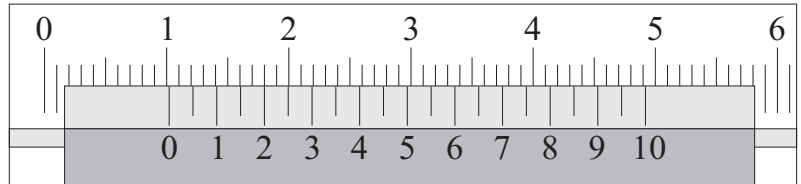
Groep: **B1-** _____

1	2	3	4	5
---	---	---	---	---

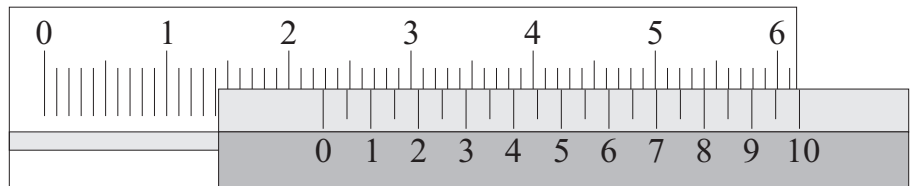
1) Welke maat lees je hier af?



2) Welke maat lees je hier af?

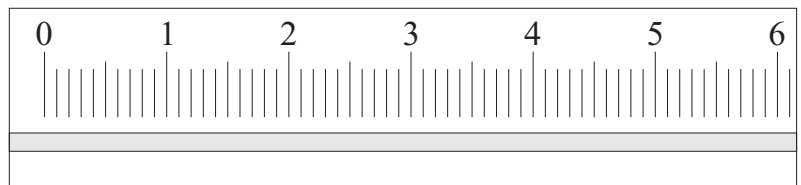


3) Welke maat lees je hier af?



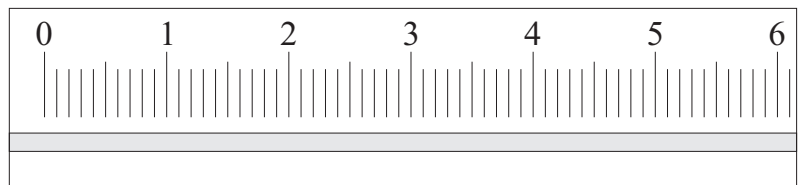
4) Plak de nonius op maat:

14,8 mm



5) Plak de nonius op maat:

3,5 mm



Knip de twee stookjes hieronder los en plak ze op de juiste plaats bij vraag 4 en 5.



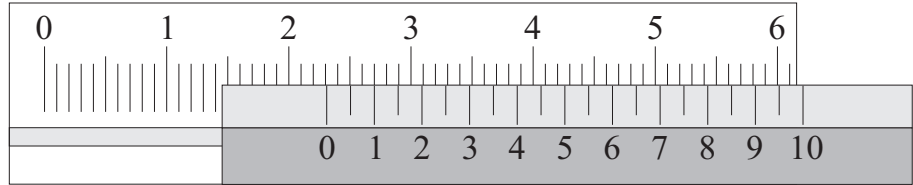
Voornaam: _____

Achternaam: _____

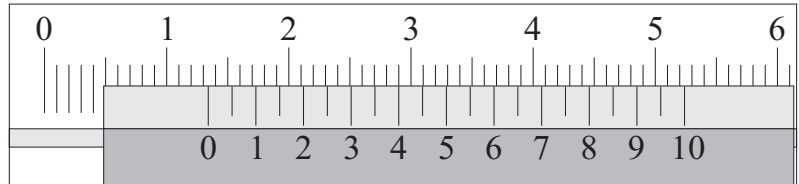
Groep: **B1-** _____

1	2	3	4	5
---	---	---	---	---

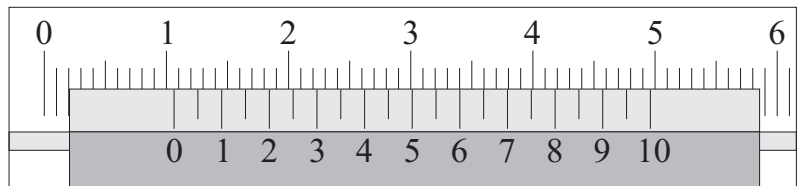
1) Welke maat lees je hier af?



2) Welke maat lees je hier af?

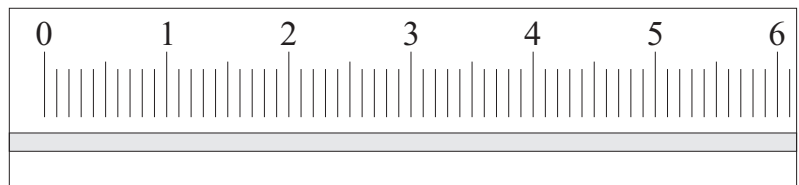


3) Welke maat lees je hier af?



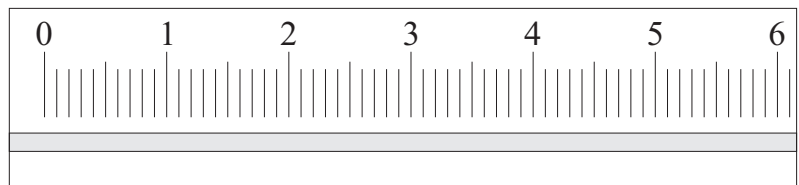
4) Plak de nonius op maat:

23,7 mm



5) Plak de nonius op maat:

9,3 mm



Knip de twee stookjes hieronder los en plak ze op de juiste plaats bij vraag 4 en 5.



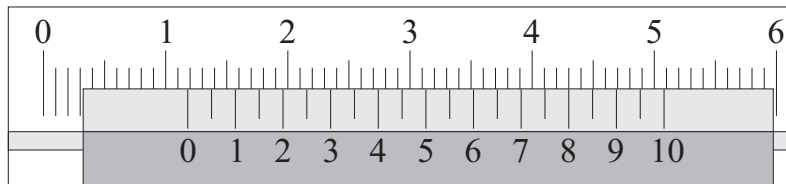
Voornaam: _____

Achternaam: _____

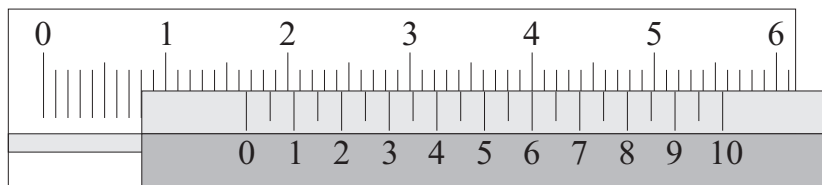
Groep: B1-

1	2	3	4	5
---	---	---	---	---

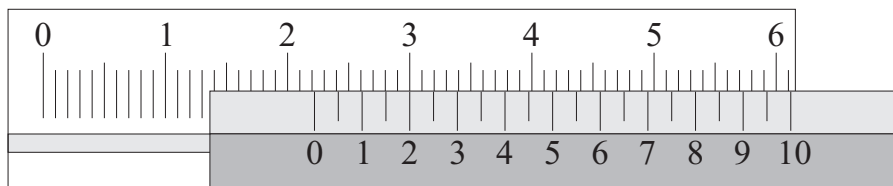
1) Welke maat lees je hier af?



2) Welke maat lees je hier af?

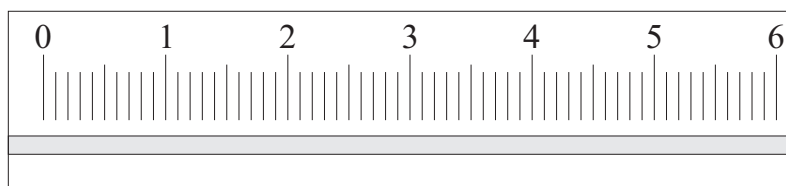


3) Welke maat lees je hier af?



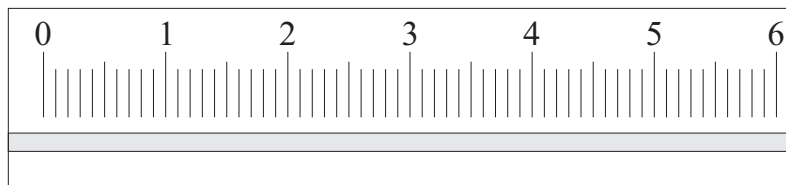
4) Plak de nonius op maat:

14,7 mm



5) Plak de nonius op maat:

2,6 mm



Knip de twee stookjes hieronder los en plak ze op de juiste plaats bij vraag 4 en 5.

